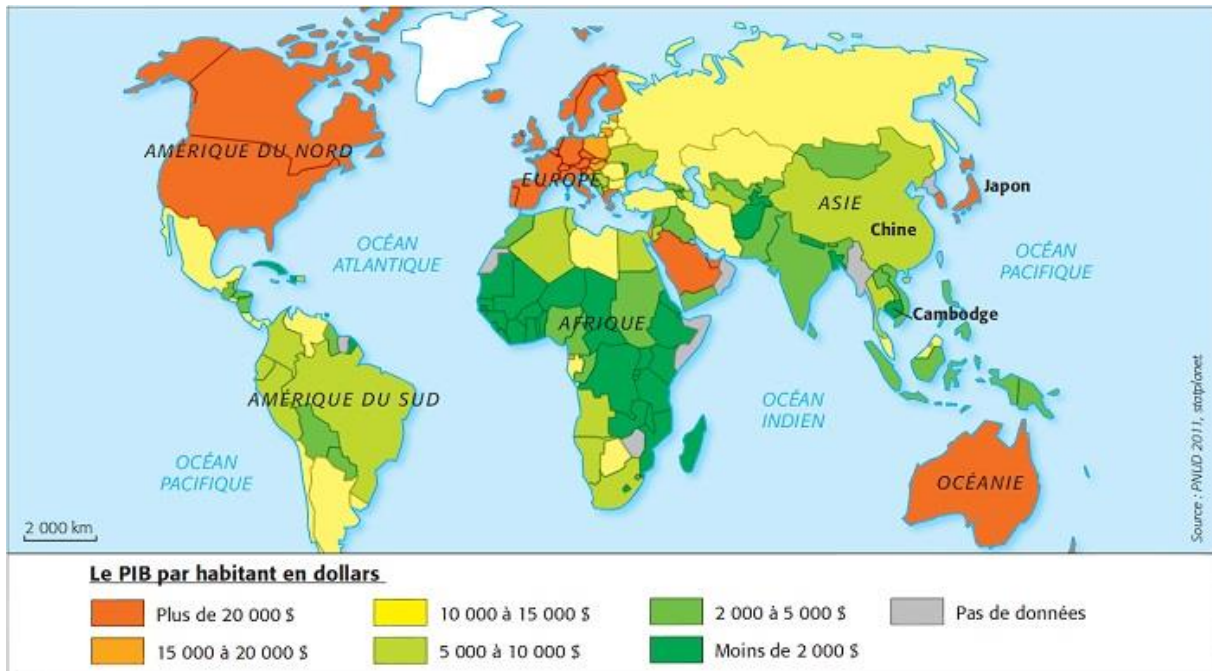


Méthode

Capacité : relever les informations essentielles contenues dans le document et les mettre en relation avec ses connaissances

Les inégalités de richesse dans le monde



1. Relevez le thème, la nature, la source et la date de la carte.

.....

.....

.....

2. Quels sont les pays les plus riches ?

.....

.....

.....

3. Citez le continent qui compte le plus de pays à faible revenu.

.....

.....

4. Pourquoi peut-on dire que l'Asie est un continent marqué par de fortes oppositions de richesse ?

.....

.....

.....

.....

Activités

Exercice 1 : mémoriser et restituer les principales connaissances et notions

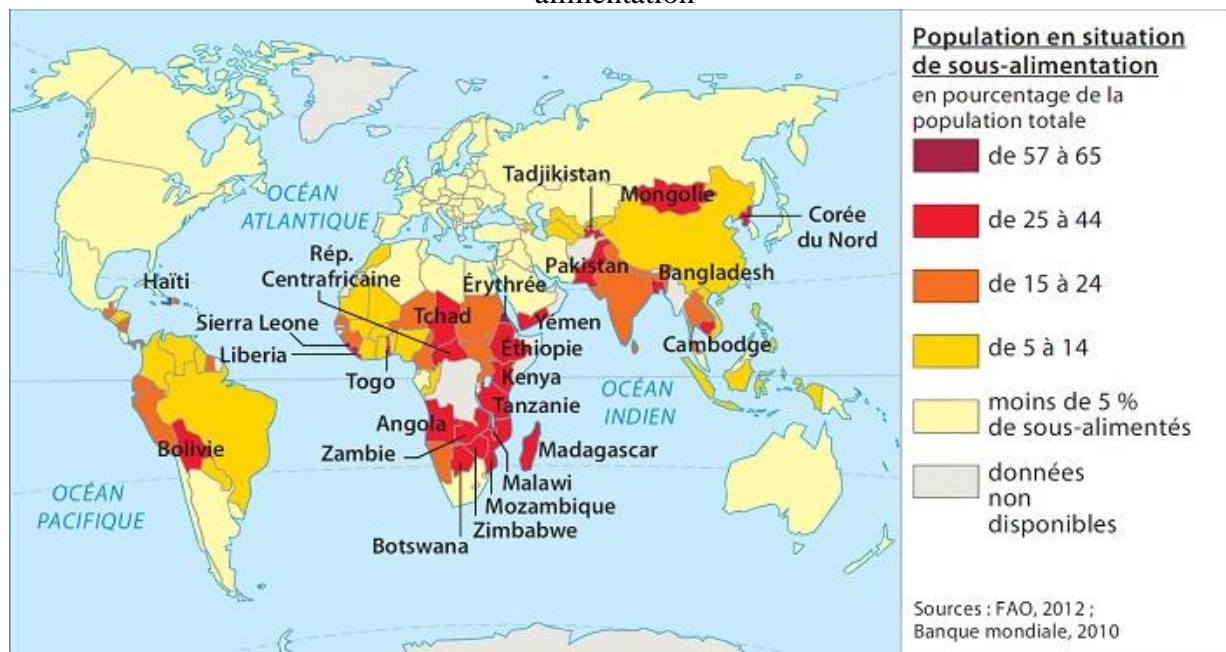
Faites correspondre à chacun des deux indicateurs suivants sa définition : PIB – IDH.

Indicateur du développement d'une société qui prend en compte à la fois la situation économique et les conditions de vie. Il varie de 0 à 1 :

Indicateur qui mesure les richesses produites chaque année dans un pays :

Exercice 2 : relever les informations essentielles contenues dans un document et les mettre en relation avec ses connaissances

Population en situation de sous-alimentation



1. Présentez le document.

.....

.....

2. Quelles régions du monde ne sont pas concernées par la sous-alimentation ?

.....

.....

3. Quel est le continent le plus touché par la sous-alimentation ?

.....

4. Montrez que l'Asie est dans une situation contrastée.

.....

.....

.....

5. Dans un court paragraphe, vous présenterez les inégalités des populations face à l'alimentation.

.....

.....

.....

.....

.....

.....

Vers le CCF : Les inégalités aux États-Unis

Les inégalités de richesse sont fortes entre les pays du Nord et ceux du Sud, mais elles existent aussi au sein des pays riches comme les États-Unis.

Quelles formes prennent les inégalités aux États-Unis ?

Pour réaliser votre dossier

I. Repérer la situation étudiée

1. Quelle est la place des États-Unis dans l'économie mondiale ?

.....

2. D'où sont originaires les populations qui composent le peuple américain ? (doc. 1)

.....

.....

II. Exploiter des documents

3. D'après le document 1, quels sont les groupes ethniques qui subissent le plus la pauvreté

.....

.....

4. Quel est l'écart de revenu entre les plus riches et les plus démunis ? (doc. 2) Quelles communautés sont les plus touchées ? (doc. 1)

.....

.....

.....

5. Les écarts entre riches et pauvres ont-ils tendance à augmenter ou à diminuer ? (doc. 2)

.....

6. Comment ces paysages rendent-ils compte des inégalités qui existent aux États-Unis ? (doc. 3 et doc. 4)

.....

.....

.....

III. Maîtriser des outils et des méthodes pour présenter son travail

7. Reprenez le titre et la problématique du dossier.

.....

.....

8. Présentez chaque document (nature, date, titre, auteur) et dites en quoi chacun est intéressant pour répondre à la problématique.

.....

.....

.....

.....

9. Rédigez en quelques lignes un paragraphe argumenté répondant à la problématique posée. Aidez-vous des documents et des réponses apportées aux questions.

.....

.....

.....

.....

.....

Doc 1. Les communautés inégales face à la pauvreté

Communautés	Part de personnes vivant sous le seuil de pauvreté (%)
Population blanche d'origine européenne	10
Hispaniques	27,5
Afro-Américains	28
Asiatiques	13
Natifs (Indiens)	35


Source : US Census Bureau, 2012.

Doc 2. Des inégalités croissantes aux États-Unis

Aux États-Unis, les 5 % des ménages les plus riches disposent de 22,3 % du revenu global en 2012 et les 20 % les plus pauvres n'en détiennent que 3,2 %... Le revenu annuel de ces 5 % s'établit à 318 052 dollars, tandis que les 20 % les plus pauvres doivent se contenter en moyenne de 11 490 dollars. L'évolution de la part du revenu global détenue par les plus riches et les plus pauvres est relativement stable depuis le milieu des années 1990, après une forte hausse de la part de revenu détenue par les 5 % les plus riches au début des années 1990. Le rapport entre le niveau de vie minimum des 10 % des ménages les plus riches est 11,9 fois supérieur au revenu maximum 10 % des ménages les plus pauvres. Le même rapport était de 10,6 en 2000. Les inégalités ont commencé à s'accroître dès la fin des années 1970 sous la présidence du démocrate Jimmy Carter [...]. La suite est une lente montée, quasiment sans heurts. Mais après une relative période de stabilisation entre 2003 et 2007, l'évolution des inégalités de niveau de vie est repartie à la hausse.

Observatoire des inégalités, 9 janvier 2014.

Doc 3. Un quartier de Detroit en 2014



Doc 4. Une rue à New York en 2014

